



ВСЕРОССИЙСКАЯ
ОЛИМПИАДА
ШКОЛЬНИКОВ
2019/2020

БЛАНК №

1	0	-	2	4	
---	---	---	---	---	--

Региональный этап ВсОШ 2019/2020 учебного года
по предмету «БИОЛОГИЯ»

Фамилия, имя, отчество полностью:

СКУБОВА АНЖЕЛИНА ВИКТОРОВНА

Число, месяц, год рождения (ДД.ММ.ГГГГ):

10.09.2003

Класс учащегося:

10^А

За какой класс учащийся пишет работу:

10

Полное название образовательной организации по уставу:

МКДОУ «Гимназия №1»

Название района или города:

г. Кизилюрт

Дата:

27.01.20

Подпись:

МАТРИЦА ОТВЕТОВ

на задания теоретического тура регионального этапа
XXXVI Всероссийской олимпиады школьников по биологии. 2019-20 уч. год
10 - 11 классы [маx. 145 баллов] ВАРИАНТ 1

Внимание! Образец заполнения: правильный ответ - , отмена ответа -

Задание 1. маx. 40 баллов

№	а	б	в	г	№	а	б	в	г	№	а	б	в	г	№	а	б	в	г	№	а	б	в	г
1	<input checked="" type="checkbox"/>				9				<input checked="" type="checkbox"/>	17		<input checked="" type="checkbox"/>			25				<input checked="" type="checkbox"/>	33	<input checked="" type="checkbox"/>			
2				<input checked="" type="checkbox"/>	10		<input checked="" type="checkbox"/>			18			<input checked="" type="checkbox"/>		26			<input checked="" type="checkbox"/>		34		<input checked="" type="checkbox"/>		
3				<input checked="" type="checkbox"/>	11					19				<input checked="" type="checkbox"/>	27	<input checked="" type="checkbox"/>		<input checked="" type="checkbox"/>		35				
4		<input checked="" type="checkbox"/>			12		<input checked="" type="checkbox"/>			20				<input checked="" type="checkbox"/>	28			<input checked="" type="checkbox"/>		36				
5	<input checked="" type="checkbox"/>				13				<input checked="" type="checkbox"/>	21			<input checked="" type="checkbox"/>		29				<input checked="" type="checkbox"/>	37				
6				<input checked="" type="checkbox"/>	14					22	<input checked="" type="checkbox"/>				30	<input checked="" type="checkbox"/>				38				
7				<input checked="" type="checkbox"/>	15	<input checked="" type="checkbox"/>				23	<input checked="" type="checkbox"/>				31	<input checked="" type="checkbox"/>				39	<input checked="" type="checkbox"/>			
8	<input checked="" type="checkbox"/>				16		<input checked="" type="checkbox"/>			24	<input checked="" type="checkbox"/>				32				<input checked="" type="checkbox"/>	40	<input checked="" type="checkbox"/>			

Задание 2. маx. 75 баллов

№	?	а	б	в	г	д	№	?	а	б	в	г	д	№	?	а	б	в	г	д	№	?	а	б	в	г	д	№	?	а	б	в	г	д
1	в					<input checked="" type="checkbox"/>	7	в					<input checked="" type="checkbox"/>	13	в					<input checked="" type="checkbox"/>	19	в					<input checked="" type="checkbox"/>	25	в					<input checked="" type="checkbox"/>
2	в					<input checked="" type="checkbox"/>	8	в					<input checked="" type="checkbox"/>	14	в					<input checked="" type="checkbox"/>	20	в					<input checked="" type="checkbox"/>	26	в					<input checked="" type="checkbox"/>
3	в					<input checked="" type="checkbox"/>	9	в					<input checked="" type="checkbox"/>	15	в					<input checked="" type="checkbox"/>	21	в					<input checked="" type="checkbox"/>	27	в					<input checked="" type="checkbox"/>
4	в					<input checked="" type="checkbox"/>	10	в					<input checked="" type="checkbox"/>	16	в					<input checked="" type="checkbox"/>	22	в					<input checked="" type="checkbox"/>	28	в					<input checked="" type="checkbox"/>
5	в					<input checked="" type="checkbox"/>	11	в					<input checked="" type="checkbox"/>	17	в					<input checked="" type="checkbox"/>	23	в					<input checked="" type="checkbox"/>	29	в					<input checked="" type="checkbox"/>
6	в					<input checked="" type="checkbox"/>	12	в					<input checked="" type="checkbox"/>	18	в					<input checked="" type="checkbox"/>	24	в					<input checked="" type="checkbox"/>	30	в					<input checked="" type="checkbox"/>

Задание 3. маx. 30 баллов

1. маx. 3 балла

Бол-ль	1	2	3	4	5
Особенности	А	<input checked="" type="checkbox"/>			
	Б				<input checked="" type="checkbox"/>
	В		<input checked="" type="checkbox"/>		
	Г			<input checked="" type="checkbox"/>	
	Д				<input checked="" type="checkbox"/>

(по 0,5 б.) = _____

2. маx. 4,5 балла

Цитра	1	2	3	4	5	6	7	8	9
А						<input checked="" type="checkbox"/>			
Б	<input checked="" type="checkbox"/>								
В									<input checked="" type="checkbox"/>
Г									<input checked="" type="checkbox"/>
Д									<input checked="" type="checkbox"/>
Е									<input checked="" type="checkbox"/>
Ж									<input checked="" type="checkbox"/>
З									<input checked="" type="checkbox"/>

(по 0,5 б.) = _____

3. маx. 4 балла

Рис.	1	2	3	4
А				<input checked="" type="checkbox"/>
Б			<input checked="" type="checkbox"/>	
В				<input checked="" type="checkbox"/>
Г			<input checked="" type="checkbox"/>	
Д				<input checked="" type="checkbox"/>
Е				<input checked="" type="checkbox"/>
Ж				<input checked="" type="checkbox"/>
З				<input checked="" type="checkbox"/>

(по 0,5 б.) = _____

4. маx. 4 балла

Стр-ня	1	2	3	4	5	6	7	8
А						<input checked="" type="checkbox"/>		
Б								<input checked="" type="checkbox"/>
В								<input checked="" type="checkbox"/>

(по 0,5 б.) = _____

5. маx. 3 балла

Группа	1	2	3	4	5	6
А						<input checked="" type="checkbox"/>
Б						<input checked="" type="checkbox"/>
В						<input checked="" type="checkbox"/>
Г						<input checked="" type="checkbox"/>
Д						<input checked="" type="checkbox"/>

(по 0,5 б.) = _____

6. маx. 4 балла

Ткань	1	2	3	4	5	6	7	8
А								<input checked="" type="checkbox"/>
Б								<input checked="" type="checkbox"/>
В								<input checked="" type="checkbox"/>

(по 0,5 б.) = _____

7. маx. 3 балла

Пр-ли	1	2	3	4	5	6
А						<input checked="" type="checkbox"/>
Б						<input checked="" type="checkbox"/>
В						<input checked="" type="checkbox"/>
Г						<input checked="" type="checkbox"/>
Д						<input checked="" type="checkbox"/>
Е						<input checked="" type="checkbox"/>

(по 0,5 б.) = _____

8. маx. 2,5 балла

Пло-ль	1	2	3	4	5
А					<input checked="" type="checkbox"/>
Б					<input checked="" type="checkbox"/>
В					<input checked="" type="checkbox"/>
Г					<input checked="" type="checkbox"/>
Д					<input checked="" type="checkbox"/>

(по 0,5 б.) = _____

9. маx. 2,5 балла

Ст-ра	1	2	3	4	5
А					<input checked="" type="checkbox"/>
Б					<input checked="" type="checkbox"/>
В					<input checked="" type="checkbox"/>
Г					<input checked="" type="checkbox"/>
Д					<input checked="" type="checkbox"/>
Е					<input checked="" type="checkbox"/>
Ж					<input checked="" type="checkbox"/>
З					<input checked="" type="checkbox"/>

(по 0,5 б.) = _____

Итого: 64,5

Проверили:

1107 6,5 + 6,3

Шифр 10-04

Рабочее место № 4

Итого баллов _____

ЛИСТ ОТВЕТА

на задания практического тура регионального этапа
XXXVI Всероссийской олимпиады школьников по биологии 2020 г.
10 класс (вариант 1)

МОРФОЛОГИЯ И АНАТОМИЯ РАСТЕНИЙ

Ответ 1. Возраст побега 1 лет. 0

Ответ 2. Выберите из предложенных те морфологические признаки, по которым Вы ориентировались при определении возраста ветви и обозначьте их знаком V:

Положение конечной почки	
Количество междоузлий	V
Количество узлов	
Число листовых рубцов	
Число почечных чешуй	
Число почечных колец	V
Количество листовых следов	
Количество пазушных почек	V

0,25

Ответ 3. Конечная почка побега является

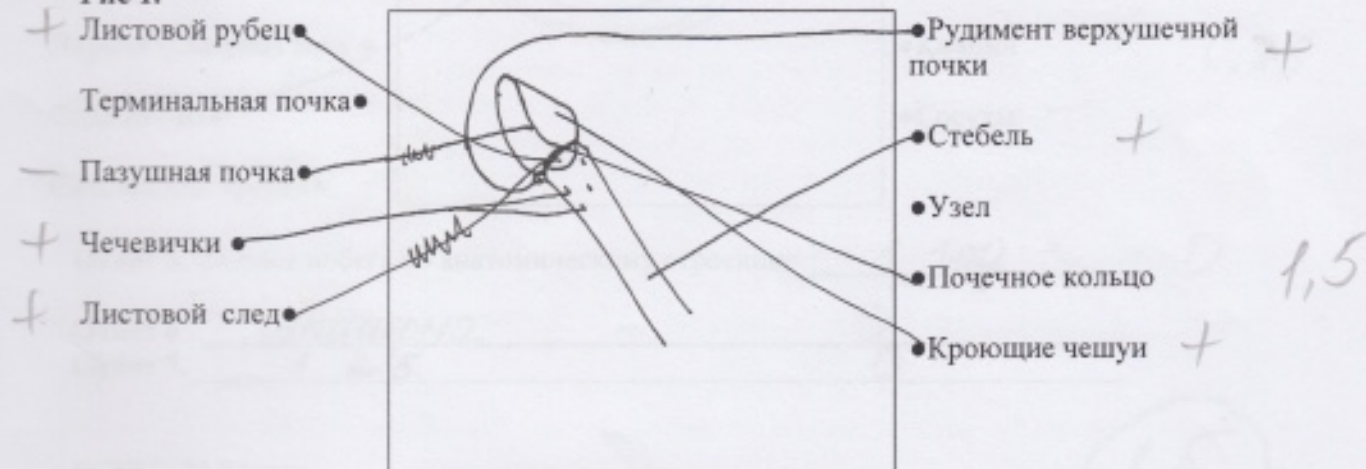
Пазушной	<input checked="" type="checkbox"/>
Терминальной	<input type="checkbox"/>

0,5

Обоснование ответа 3: почка расположена прямо на стебле

_____. 1,5 балла

Рис 1.



1,5

45

Ответ 4. Почка выданного Вам объекта является:

закрытой	<input checked="" type="checkbox"/>	Вегетативно-генеративной	<input checked="" type="checkbox"/>
открытой	<input type="checkbox"/>	выводковой	<input checked="" type="checkbox"/>
вегетативной	<input checked="" type="checkbox"/>	придаточной	<input type="checkbox"/>
генеративной	<input type="checkbox"/>	серийной	<input type="checkbox"/>

Рис.2

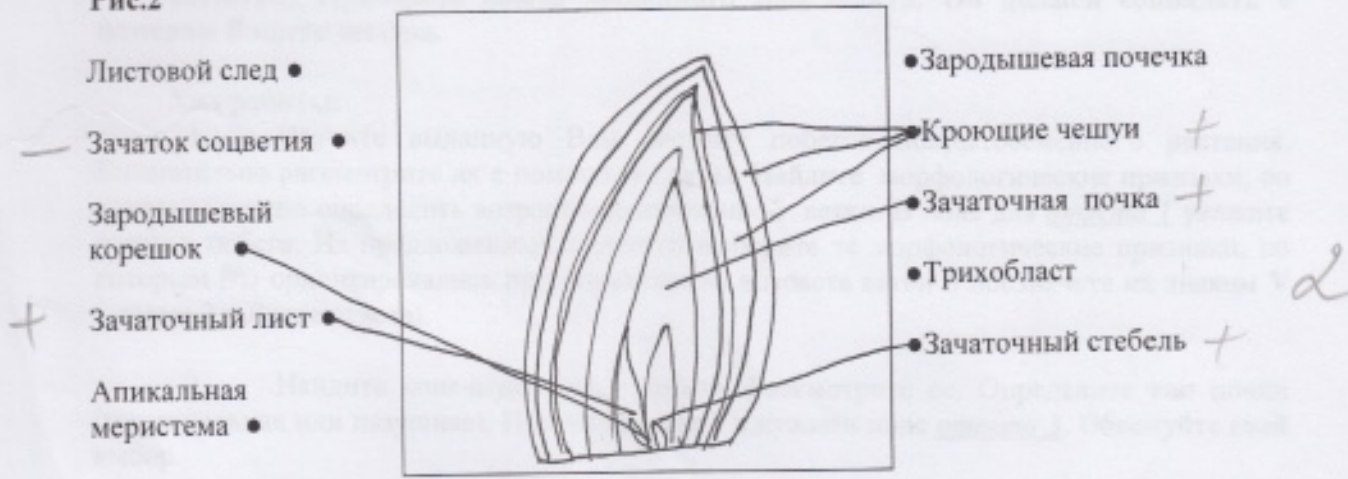
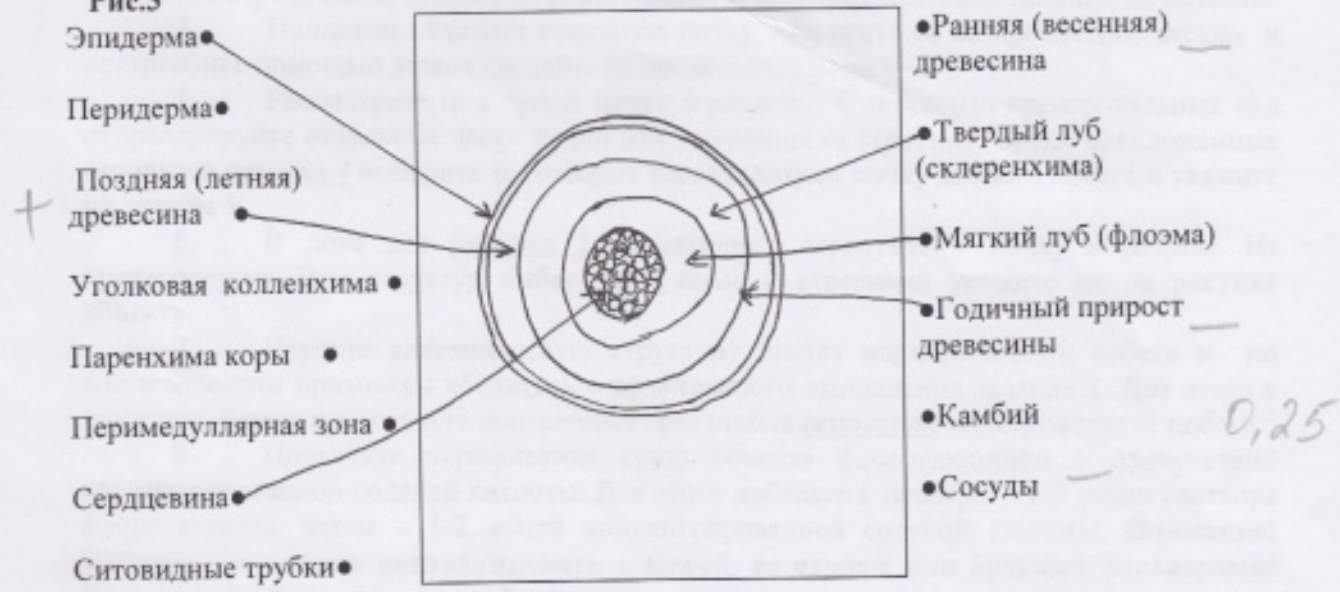


Рис.3



Ответ 5. Возраст побега по анатомическому строению: 1 год 0

Ответ 6. эпидерма 0

Ответ 7. 1 2 5 0

ВСЕГО 20 Баллов

6,5

ЗАДАНИЯ
практического тура регионального этапа
XXXVI Всероссийской олимпиады школьников по биологии 2020 г.
10 класс (вариант 1)

МОРФОЛОГИЯ И АНАТОМИЯ РАСТЕНИЙ

Цель работы: изучить строение побега древесного растения.

Оборудование и объекты исследования: микроскоп, предметные и покровные стекла, спиртовой раствор флороглюцина, концентрированная соляная кислота (HCl), фильтровальная бумага, пинцет, препаровальные иглы, салфетки, стаканчик с водой, лупа, лезвие бритвы, побеговая система древесного растения, боковой побег которой пронумерован в соответствии с номером группы и рабочего места участника.

ВАЖНО! Проверьте номер выданного Вам побега. Он должен совпадать с номером Вашего шифра.

Ход работы:

1. Изучите выданную Вам систему побегов покрытосеменного растения. Внимательно рассмотрите их с помощью лупы. Найдите морфологические признаки, по которым можно определить возраст маркированной ветки. В поле для ответа 1 укажите возраст побега. Из предложенных структур выберите те морфологические признаки, по которым Вы ориентировались при определении возраста ветви и обозначьте их знаком V (ответ 2 в Листе ответа).

2. Найдите конечную почку побега. Рассмотрите ее. Определите тип почки (терминальная или пазушная). Поставьте знак V в нужном поле ответа 3. Обоснуйте свой выбор.

3. В поле для рисунка 1 зарисуйте конечную почку с участком стебля и соедините стрелочками нужные из указанных структур с их местоположением на объекте.

4. Пинцетом отделите конечную почку, положите ее на предметное стекло и осторожно с помощью лезвия сделайте ее продольный разрез.

5. Рассмотрите под лупой почку в разрезе. С помощью препаровальных игл отпрепарируйте отдельные части почки для уточнения ее строения. Среди предложенных вариантов ответа 4 выберите те, которые характеризуют почку данного побега и укажите их знаком V.



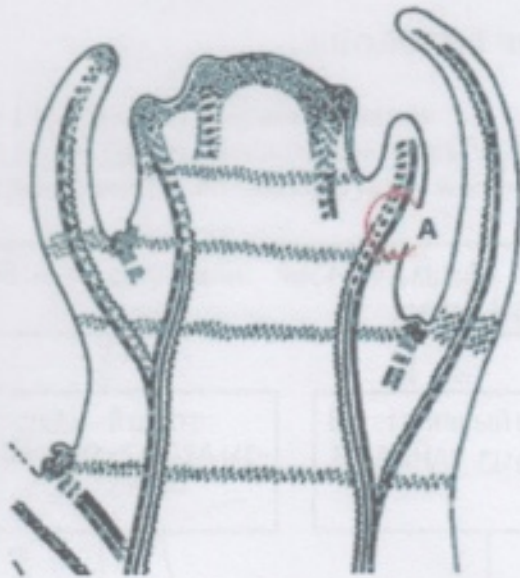
6. В поле для рисунка 2 схематично зарисуйте почку в разрезе. Из предложенных Вам структур выберите нужные и стрелками укажите их на рисунке объекта.

7. Изучите анатомическую структуру стебля маркированного побега и по анатомическим признакам убедитесь в правильности выполнения задания 1. Для этого с помощью лезвия приготовьте поперечный срез стебля основания маркированного побега.

8. Проведите окрашивание среза объекта флороглюцином в присутствии концентрированной соляной кислоты. Для этого добавьте к препарату 1-2 капли раствора флороглюцина, затем – 1-2 капли концентрированной соляной кислоты. **Внимание!** Пипетка не должна контактировать с кожей, со столом или другими растворами! **Срочно закройте склянку пробкой – соляная кислота летуча!**

9. После окрашивания замените р-р флороглюцина с соляной кислотой на воду. Качество приготовления среза проконтролируйте с помощью микроскопа. Зарисуйте в поле рисунка 3 ту часть среза стебля, которая позволяет Вам определить возраст молодой ветки. Выберите из перечисленных анатомических структур имеющиеся на Вашем рисунке и соотнесите стрелками названия с их местонахождением. В поле ответа 5, укажите возраст побега, определенный по анатомическим признакам.

10. Рассмотрите рисунок. В поле ответа 6 укажите название структуры, изображенной на рисунке. Выберите из предложенных структурных элементов ксилемы те, которые формируются в зоне, обозначенной буквой А. Укажите их номера в поле ответа 7.



Историческая зона	Историческая зона	Историческая зона
Зона камбия	Зона камбия	Зона камбия
Зона вторичной ксилемы	Зона вторичной ксилемы	Зона вторичной ксилемы
Зона вторичной флоэмы	Зона вторичной флоэмы	Зона вторичной флоэмы
Зона первичной ксилемы	Зона первичной ксилемы	Зона первичной ксилемы
Зона первичной флоэмы	Зона первичной флоэмы	Зона первичной флоэмы
Зона камбия	Зона камбия	Зона камбия
Зона вторичной ксилемы	Зона вторичной ксилемы	Зона вторичной ксилемы
Зона вторичной флоэмы	Зона вторичной флоэмы	Зона вторичной флоэмы

Историческая зона	Историческая зона	Историческая зона
Зона камбия	Зона камбия	Зона камбия
Зона вторичной ксилемы	Зона вторичной ксилемы	Зона вторичной ксилемы
Зона вторичной флоэмы	Зона вторичной флоэмы	Зона вторичной флоэмы
Зона первичной ксилемы	Зона первичной ксилемы	Зона первичной ксилемы
Зона первичной флоэмы	Зона первичной флоэмы	Зона первичной флоэмы
Зона камбия	Зона камбия	Зона камбия
Зона вторичной ксилемы	Зона вторичной ксилемы	Зона вторичной ксилемы
Зона вторичной флоэмы	Зона вторичной флоэмы	Зона вторичной флоэмы

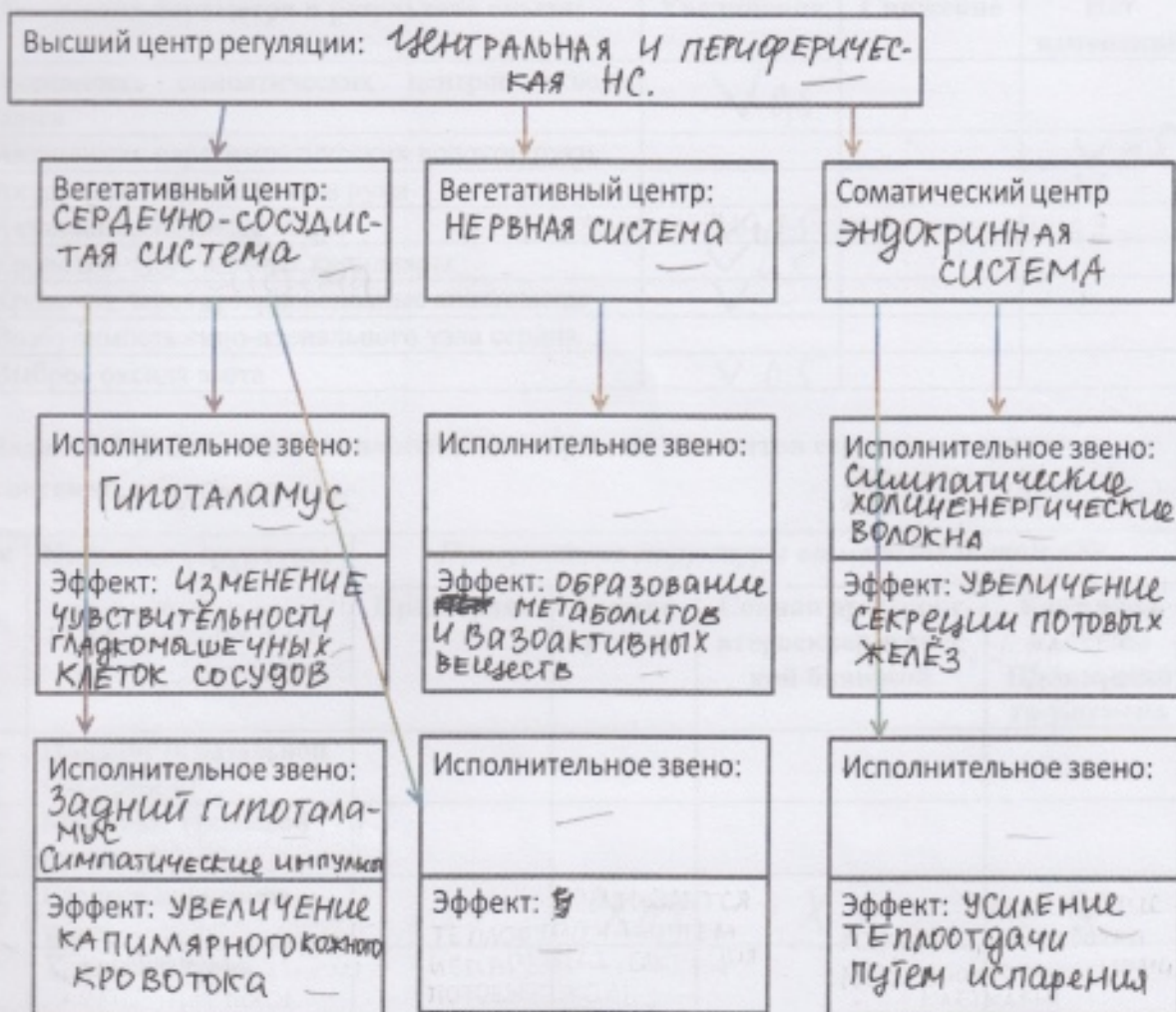
ЛИСТ ОТВЕТОВ

на задания практического тура регионального этапа
XXXVI Всероссийской олимпиады школьников по биологии 2020 г.
10 класс (вариант 1)

БИОЛОГИЯ ЧЕЛОВЕКА

Задание 1 (12 баллов). Терморегуляция

Задание 1.1 (4 балла). Воспользовавшись текстом, приведенным в Задании, заполните схему нервной регуляции температуры у млекопитающих:



Перейдите к эксперименту:

Задание 1.2 (1,5 балла). Положите левую руку на лист белой бумаги. Внимательно исследуйте руку, запишите результаты наблюдений в матрице ответов.

Цвет руки (подчеркните)	<u>Бледная</u> 0,25	красная
Кожа (подчеркните)	Влажная	<u>сухая</u>
Температура руки (приложите к шее)	Теплая	<u>холодная</u>
Частота пульса (уд/мин): <u>66</u> 0,5	брадикардия	тахикардия <u>норма</u> 0,25

Задание 1.3 (2,5 балла). Поднимите руку, ассистент принесет вам емкость с горячей водой (температурой 45- 50 оС). Замерьте температуру воды: 41°С 0,5. Окуните левую руку в емкость водой. Через 1 минуту, либо при появлении неприятных ощущений, выньте руку и вытрите сухой салфеткой. Примерно еще через минуту проведите наблюдения на левой руке.

Признак /параметр	Подчеркните наиболее подходящее значение			
Цвет левой руки	Бледнее		<u>краснее</u>	<u>0,5</u>
Цвет правой руки	<u>Бледнее</u>		краснее	
Частота пульса (уд/мин): <u>68</u>	<u>0,5</u>	брадикардия	тахикардия	<u>норма</u> <u>0,5</u>

Задание 1.4 (4 балла). Используя составленную Вами схему терморегуляции и результаты проведенного эксперимента, заполните Таблицу ниже:

Изменение параметра в результате опыта:	Увеличение	Снижение	Нет изменений
Активность симпатических центров ствола мозга	<u>✓ 0,5</u>		
Активность парасимпатических волокон руки			<u>✓ 0,5</u>
Активность мотонейронов руки			<u>✓ -</u>
Активность потовых желез	<u>✓ 0,5</u>		
Кровоток через кожные капилляры	<u>✓ 0,5</u>		
Кровоток через артериовенозные анастомозы	<u>✓ -</u>		
Возбудимость сино-атриального узла сердца			
Выброс оксида азота	<u>✓ 0,5</u>		

Задание 2 (8 баллов). Гистологическое строение элементов сердечно-сосудистой системы.

буква:	Название структуры	Присутствие структуры отметьте знаком «X»			
		Предсердие	Сонная артерия	Сонная артерия с атеросклеротической бляшкой	Капилляр капсулы Шумлянско-го-Боумена
Е	Подоцит (с базальной мембраной)				
Ж	Макрофаг (тканевой базофил)				
В	Гладкая мышечная ткань		<u>X 0,2</u>	<u>X 0,2</u>	<u>X</u>
Г	Хрящевая ткань				
З	Кардиомиоцит	<u>X 0,2</u>			
Д	Химический синапс			<u>X 0,2</u>	<u>X</u>
А	Волокнистая соединительная ткань				<u>X</u>
Б	Поперечно-полосатая скелетная мышечная ткань	<u>X</u>			

6,3

ЗАДАНИЯ
практического тура регионального этапа
XXXVI Всероссийской олимпиады школьников по биологии. 2019-2020 уч.год
10 класс (вариант 1)

БИОЛОГИЯ ЧЕЛОВЕКА

Задание 1 (12 баллов). Терморегуляция теплокровных животных

Материалы: листы белой бумаги, бумажные полотенца, термометр, секундомер или таймер, плоская емкость с горячей водой (предоставляется при выполнении задания).

Терморегуляция - комплекс важных гомеостатических рефлексов, поддерживающих температуру тела в ответ на изменяющиеся условия окружающей среды. Терморегуляция является комплексным физиологическим процессом, поскольку вовлекает в работу сердечно-сосудистую, нервную и эндокринную систему. В этом задании Вам предлагается выявить связь между центральной и периферической регуляцией теплокровного животного - человека.

Механизмы терморегуляции разделяют на химические, связанные с изменением теплопродукции (в первую очередь, скелетными мышцами) и физические, связанные с изменением теплоотдачи (системный кровоток, теплоотдача конечностей, испарение воды кожей, слизистыми и легкими). Теплоотдача конечностей в наибольшей степени зависит кожного кровотока. Реакции сосудов кожи определяются гипоталамусом и реализуются посредством альфа-адренергических механизмов, изменяя, прежде всего, состояние артерио-венозных анастомозов и кровотоков через них. Роль центрального терморцептора, отслеживающего изменения внутренней температуры, выполняет медиальная преоптическая область переднего гипоталамуса. Задний гипоталамус интегрирует поступающие температурные сигналы от тепловых и холодных периферических терморцепторов, в том числе и от кожных. При общем тепловом воздействии на организм, равно как при локальном нагревании гипоталамуса в эксперименте наблюдается увеличение кожного кровотока и перераспределение его между капиллярами и артериовенозными анастомозами. В это же время, симпатические холинергические волокна активируют секрецию потовых желез, усиливая теплоотдачу путем испарения.

К важным местным механизмам относятся изменение чувствительности гладкомышечных клеток сосудов к симпатическим импульсам при изменении температуры кожи, а также выработка оксида азота (NO) эндотелиальными клетками артериол при увеличении капиллярного кровотока. В развитии вазодилатации (расширении сосудов) при местном нагревании кожи большое значение имеют образующиеся здесь метаболиты и вазоактивные вещества, такие как углекислота, лактат, простагландины, брадикинин и др.

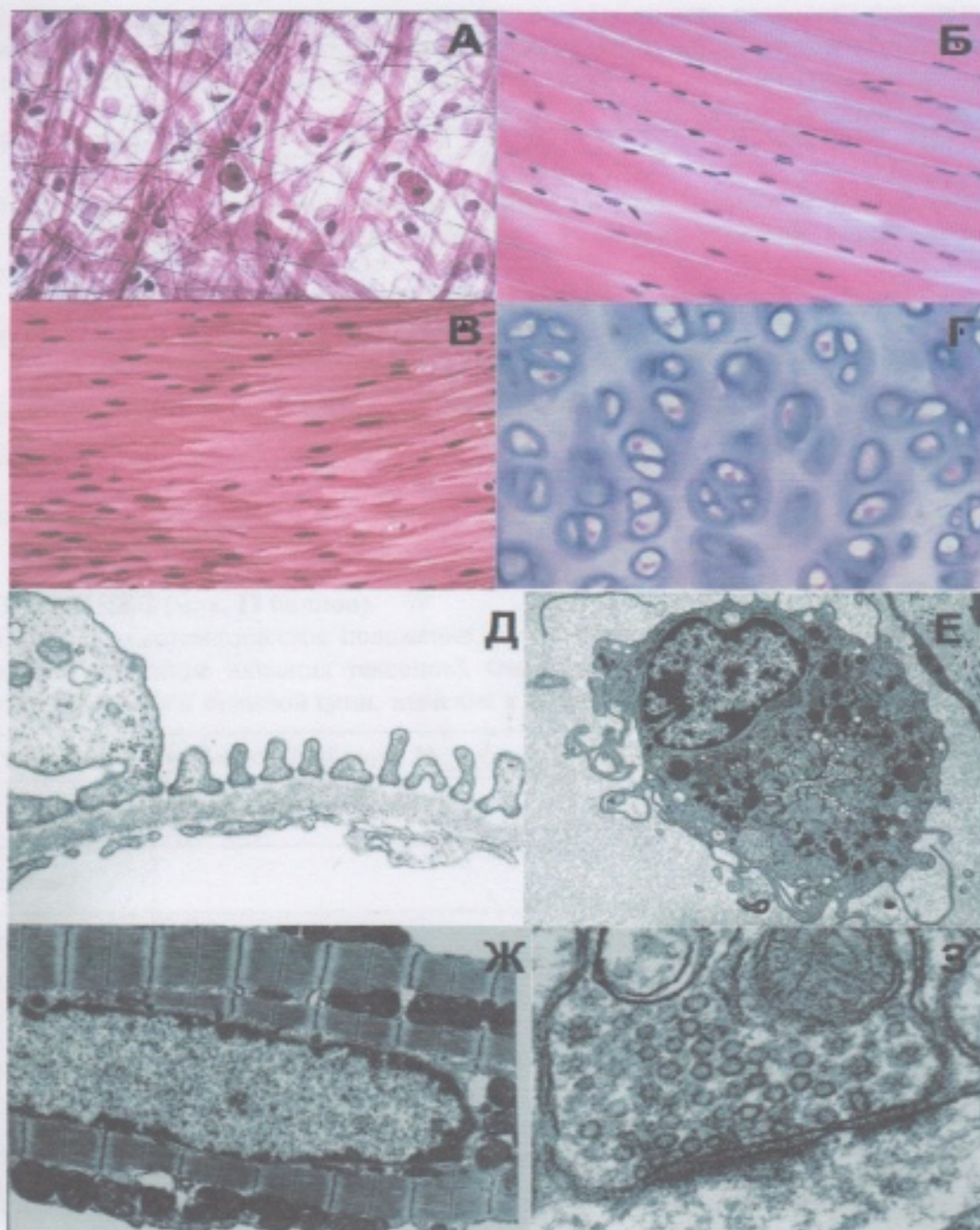
Важно, что кожные артериальные сосуды значительно меньше вовлекаются в гомеостатические рефлексы, участвующие в регуляции системного давления, а реакция кожных вен на различные раздражители не отражает реакции организма в целом. Главным фактором в регуляции кожного кровотока является температура тела, а реакции, возникающие в результате изменения температуры, могут перекрывать другие воздействия на кожу.

Задание 2 (8 баллов). Гистологическое строение элементов сердечно-сосудистой системы

Органы сердечно-сосудистой системы составлены из множества различных тканей, включающих самые разнообразные типы клеток. На рисунке ниже представлены микрофотографии специализированных клеточных структур, клеток и тканей, полученные методами световой (А-Г) и электронной (Д-З) микроскопии. Определите эти структуры и отметьте, какие из них могут быть обнаружены в составе стенок перечисленных ниже структур человека:

- 1 – предсердия в норме
- 2 – сонной артерии в норме
- 3 – сонной артерии с атеросклеротической бляшкой
- 4 – капилляре капсулы Шумлянско-Боумана в норме

Обратите внимание: не все изображенные на микрофотографиях структуры могут быть обнаружены в органах кровеносной системы!!!



Шифр _____

Баллы _____

Рабочее место № 4

Задания практического тура регионального этапа XXXVI Всероссийской олимпиады школьников по биологии. 2019-20 уч. год. 10 класс

ЗООЛОГИЯ ПОЗВОНОЧНЫХ (макс. 20 баллов)

ЗАДАНИЕ 1. (макс. 8 баллов)

1. Рассмотрите предложенный череп млекопитающего животного. Определите, к какому отряду принадлежит данный объект (2 балла). /Рабочий № объекта 1/

Отряд Позвоночные (черепахи) 2

2. Особенности зубов млекопитающих (число, особенности расположения, степень дифференцировки, сочетание типов зубов и т.д.) служит одним из систематических признаков. Запишите зубную формулу объекта (4 балла).

Зубная формула $I \frac{2}{2} C \frac{1}{1} P \frac{2}{2} M \frac{2-3}{2-3} = 32$ гетеродонтные, выраженная дифференцир. диастема нет. 4

3. Определите, к какой экологической группе по типу питания относится данный объект. Укажите знаком X положение объекта в соответствующей графе таблицы (2 балла).

Плотоядное животное		Растительноядное животное			Смешанноядное (употребляет и растительный, и животный корм)
Хищник	Насекомоядное	Преимущественно травоядное	Питается преимущественно семенами	Поедающее преимущественно ветви, кору, листья	
					X

ЗАДАНИЕ 2 (макс. 12 баллов).

Выясните систематическое положение двух объектов, вписав для каждого из них русские (или латинские названия таксонов). Определите по специфическим признакам место этих животных в пищевой цепи, значение в природе и жизни человека.

Ранг таксона	Объект 1 /рабочий № <u>2</u> /	Объект 2 /рабочий № <u>3</u> /
Тип	Костные	Тыя ланушка
Подтип		
Класс	Рябоз	Земноводные
Отряд	позвоночные	позвоночные
Место в пищевой цепи	консумент II порядка	консумент I порядка
Значение в природе и для человека	служит пищей для человека и др. хищников	служит пищей

120